

Trường : Tiểu học Phước Vĩnh B
Lớp : 2A...
Họ và tên:.....

KIỂM TRA CUỐI HỌC KÌ II
MÔN: TOÁN
Năm học: 201.. – 201..
Thời gian: 40 phút

Điểm	Lời phê của giáo viên

I. TRẮC NGHIỆM : (6 điểm)

Khoanh tròn vào kết quả đúng nhất.

1/ 1 giờ =phút

- A. 24 phút B. 30 phút C. 40 phút D. 60 phút

2/ Đồng hồ bên chỉ mấy giờ?

- A. 12 giờ 3 phút B. 12 giờ 15 phút
C. 3 giờ đúng D. 3 giờ 12 phút



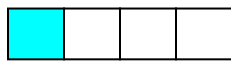
3/ 1dm =mm

- A. 1 mm B. 10 mm C. 100 mm D. 1000 mm


4/ Khoanh vào chữ đặt dưới hình đã tô màu 1/3 hình.



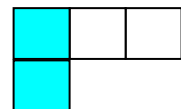
A



B

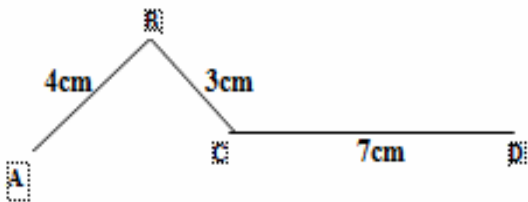


C



D

5/ Độ dài đường gấp khúc ABCD là:



- A. 10cm B. 16cm C. 17cm D. 14cm

6/ Tính :

$$32 : 4 = ?$$

- A. 7 B. 8 C. 9 D. 10

7/ Viết số thích hợp vào chỗ chấm :

431,, 433,,,,, 438

8/ Viết “giờ” hoặc “phút” vào chỗ chấm thích hợp:

a. Mỗi trận thi đấu bóng đá kéo dài trong 90

b. Buổi sáng, em thức dậy lúc 6

9/ Nói số thích hợp với ô trống:

a) < 70

b) > 40

60 90 80

70 40 30

II. TỰ LUẬN: (4điểm)

1. Đặt tính rồi tính: (1 điểm)

$$246 + 433$$

$$658 - 213$$

.....

.....

.....

2. Tìm x : (1 điểm)

$$a/ x \times 5 = 35$$

$$b/ x : 8 = 4$$

.....

.....

.....

.....

4. Có 30 bông hoa cắm vào các bình, mỗi bình có 5 bông hoa. Hỏi cắm được tất cả mấy bình? (2 điểm).

.....

.....

.....

.....